



DIPLÔME NATIONAL DU BREVET SESSION 2019

MATHÉMATIQUES

Série professionnelle

Durée de l'épreuve : 2 h 00 – 100 points

Dès que le sujet vous est remis, assurez-vous qu'il soit complet.

Ce sujet comporte 8 pages numérotées de la 1/8 à la page 8/8.

ATTENTION LES ANNEXES pages 7/8 et 8/8 sont à rendre avec la copie.

L'usage de tout modèle de calculatrice, avec ou sans mode examen, est autorisé.
L'utilisation du dictionnaire est interdite

Le cinéma

Indication portant sur l'ensemble du sujet

Pour chaque question, si le travail n'est pas terminé, laisser tout de même une trace de la recherche (calcul, schéma, explication, ...). Elle sera prise en compte dans la notation

Exercice 1 (18 points)

L'écran d'une salle de cinéma est représenté en **annexe 7/8**.

Pour un bon confort visuel, l'image projetée doit recouvrir au moins 85 % de l'écran. L'objectif de cet exercice est de vérifier si l'image projetée vérifie cette condition.

1. Donner la longueur et la hauteur de l'écran.
2. L'image projetée sur cet écran est un rectangle de longueur 15 m et de hauteur 9 m.
Placer l'image projetée sur l'annexe de telle sorte qu'elle soit centrée sur l'écran.
3. Calculer l'aire de l'image en m^2 .
4. Indiquer, en le justifiant, si l'image projetée apporte le confort visuel attendu.

Exercice 2 (16 points)

Emma achète à l'entrée du cinéma, un paquet de bonbons colorés.

Le paquet contient 7 bonbons de chaque couleur : bleu, orange, rouge, marron, vert et jaune. Emma n'aime pas la couleur verte.

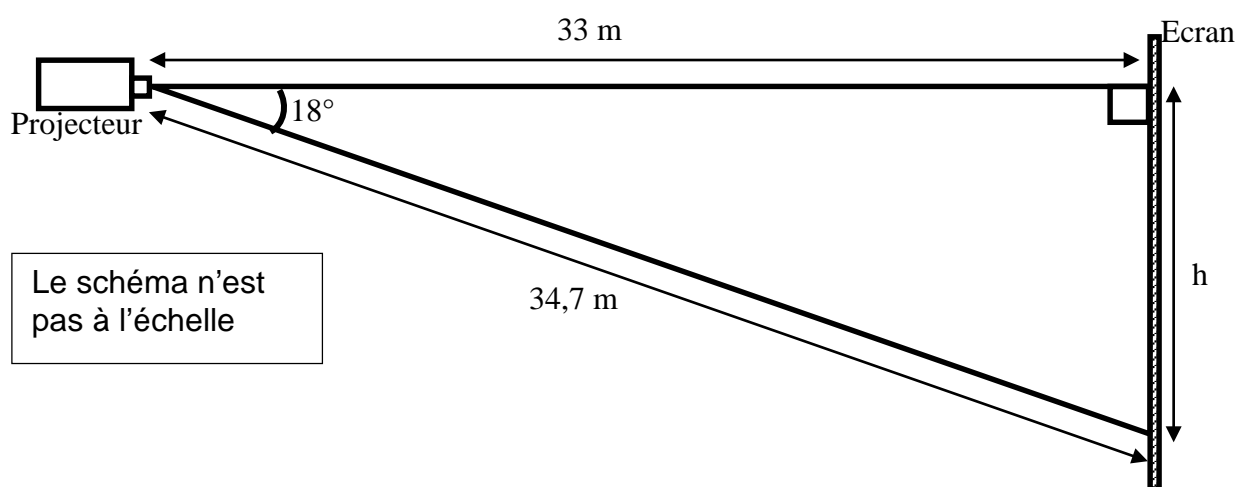
Elle tire au hasard un bonbon et espère ne pas tomber sur un bonbon vert.

1. Calculer la probabilité de tomber sur un bonbon vert. Donner le résultat sous la forme d'une fraction irréductible.
2. Chaque fois qu'elle tire un bonbon vert, Emma la remet dans le paquet. S'il n'est pas vert, elle le mange.
Elle a mangé trois bonbons rouges, deux jaunes, deux bleus, trois marrons et quatre oranges, puis elle tire au hasard un nouveau bonbon.
Calculer la probabilité de tomber sur un bonbon vert. Donner le résultat sous la forme d'une fraction irréductible.
3. Si Emma continue ainsi, donner la valeur que la probabilité « de tomber sur un bonbon vert » va finir par atteindre. Justifier votre réponse.

Exercice 3 (15 points)

Dans le cinéma d'une ville on projette un film d'animation. Le projectionniste veut vérifier les bonnes conditions de diffusion du film.

1. Le projecteur permet de diffuser des films tournés en 48 images au maximum par seconde. La durée du film est de 2 h 50 min et il contient 489 600 images. Vérifier que le projecteur est adapté à ce film. Justifier votre réponse par un calcul.
2. Ce film est projeté sur un écran de 10 m de haut. Le schéma ci-dessous indique la position du projecteur par rapport à l'écran.
 - a. Calculer la hauteur h de l'image.
 - b. En déduire si la hauteur de l'image projetée est adaptée à l'écran.



Exercice 4 (18 points)

Au mois de mai 2018, un nouveau cinéma a ouvert ses portes dans la zone commerciale d'une ville. Un autre cinéma est déjà présent dans le centre-ville. Une étude statistique a été menée sur la fréquentation mensuelle, c'est-à-dire le nombre d'entrées par mois, des deux cinémas en 2018.

Les objectifs de ce nouveau cinéma sont les suivants :

- Une fréquentation mensuelle moyenne supérieure à 10 000 entrées ;
- Une fréquentation totale supérieure à celle du cinéma du centre-ville sur la période mai à décembre ;
- Aucune fréquentation mensuelle inférieure à 7 000 entrées.

1. En **annexe 8/8**, compléter le tableau pour le cinéma du centre-ville.
2. En **annexe 8/8**, compléter le diagramme en bâtons pour le cinéma de la zone commerciale.
3. Vérifier le premier objectif du nouveau cinéma en le justifiant.
4. Vérifier que les 2 autres objectifs sont atteints. Justifier vos réponses.

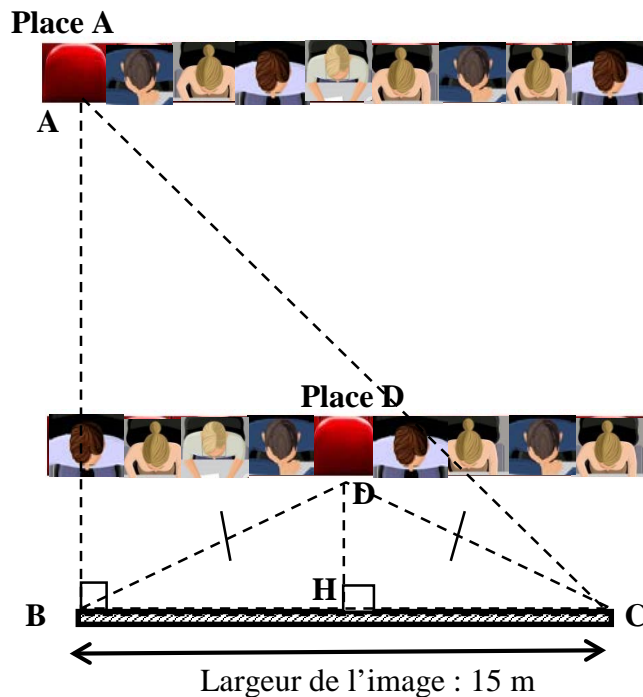
Exercice 5 (15 points)

Pour éviter des mouvements de têtes lors du visionnage du film, une personne doit avoir un angle de vision inférieur à 90° .

Une personne arrive dans une salle de cinéma. Il ne reste que les places A et D comme indiqué sur le schéma ci-dessous. Elle choisit la place D.

Le but de l'exercice est de vérifier si elle a fait le bon choix.

On donne $DH = 7$ m et $DB = DC = 10,26$ m et $\widehat{BAC} = 37^\circ$.



Le schéma n'est pas à l'échelle

1. Donner la nature du triangle BDC.
2. Calculer en degré la mesure de l'angle \widehat{BDH} . Arrondir à l'unité.
3. En déduire la mesure de l'angle \widehat{BDC} , angle de vision de la personne assise à la place D.
4. Expliquer en le justifiant si le choix de la personne est le bon.

Formules :

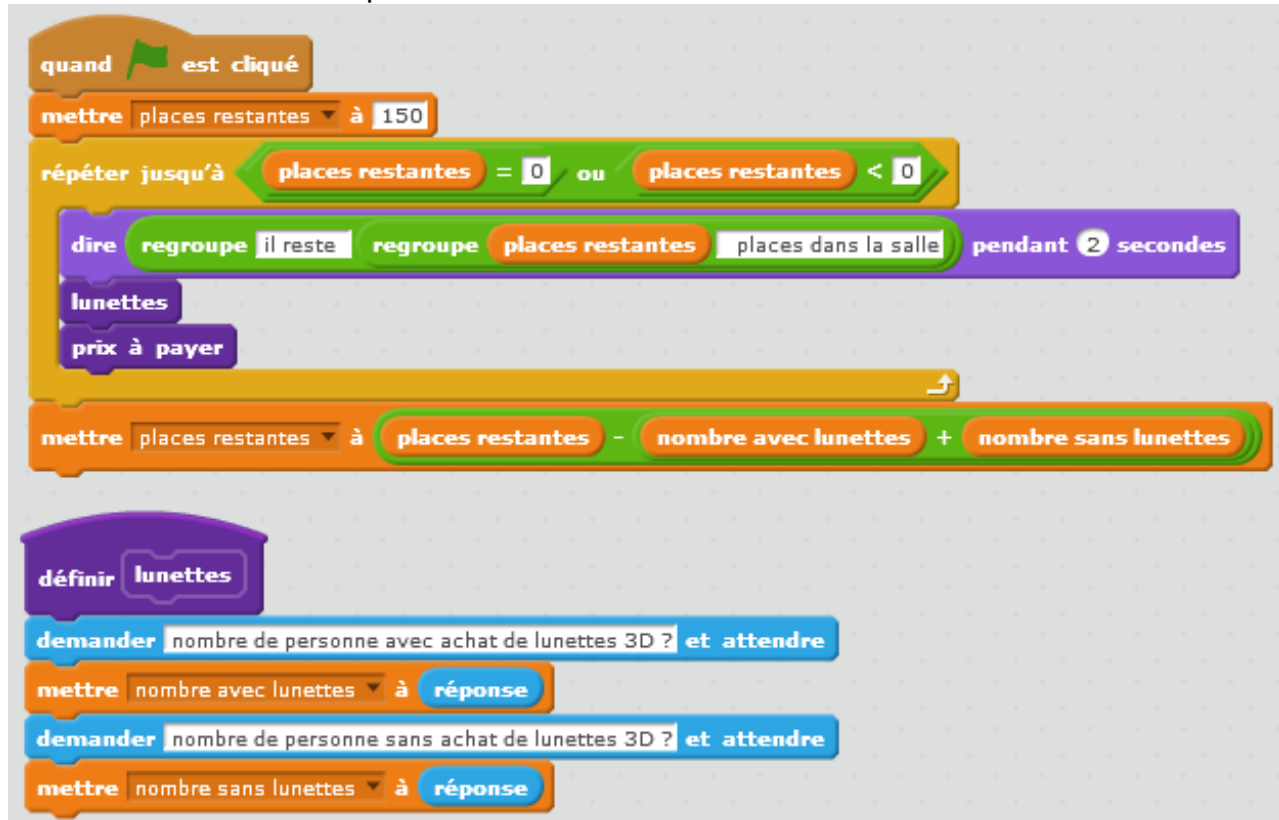
$$\cos \alpha = \frac{\text{mesure du côté adjacent}}{\text{mesure de l'hypoténuse}} ; \sin \alpha = \frac{\text{mesure du côté opposé}}{\text{mesure de l'hypoténuse}} ; \tan \alpha = \frac{\text{mesure du côté opposé}}{\text{mesure du côté adjacent}}$$

Exercice 6 (18 points)

Dans une salle de cinéma, on projette des films en 3D. Le prix de la place sans l'achat des lunettes 3D est de 11 €, le prix avec l'achat des lunettes 3D est 12 €.

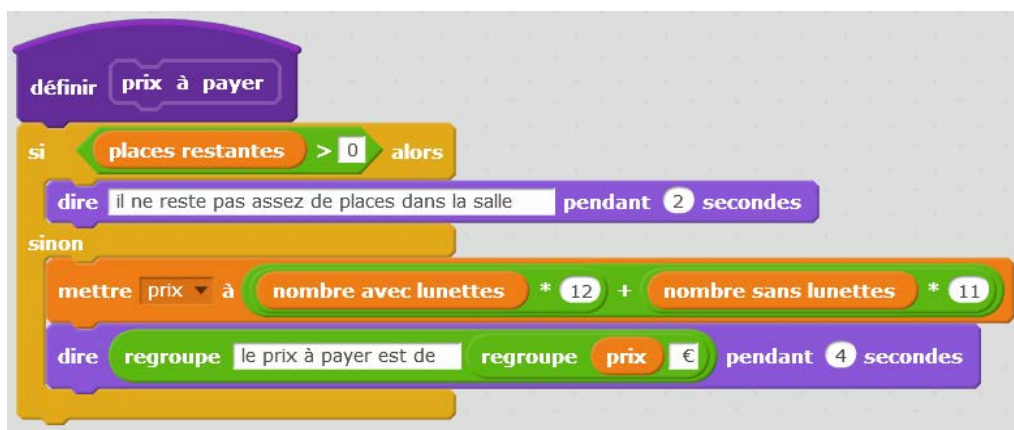
Une borne permet d'acheter des places. Elle fonctionne grâce à l'algorithme ci-dessous : il calcule le prix à payer et le nombre de places restantes dans la salle.

1. Donner le nombre de places initial de cette salle.

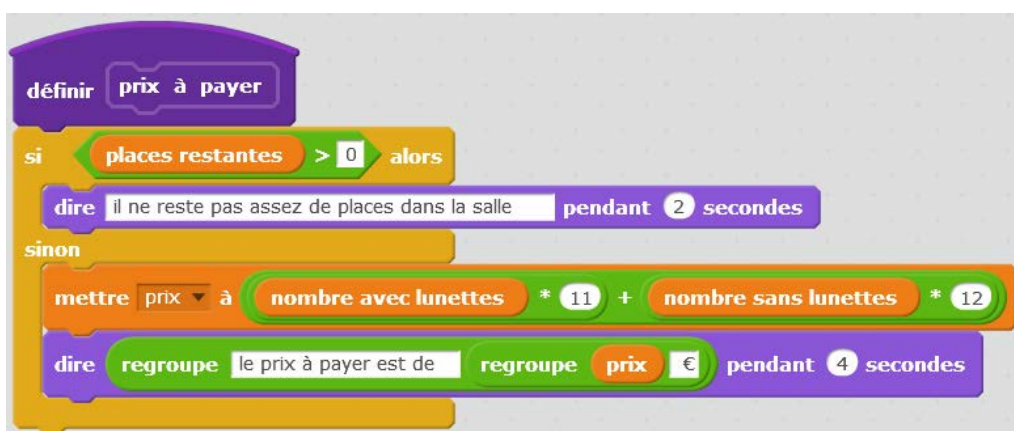


2. Un bloc d'instructions « prix à payer » est dans l'algorithme. Parmi les trois propositions suivantes, choisir le bloc qui comporte les bonnes informations. Justifier.

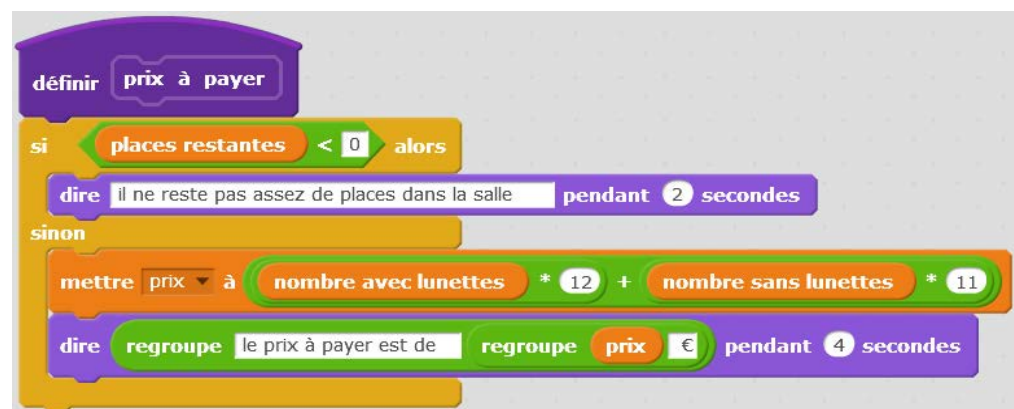
Proposition A



Proposition B




Proposition C



3. Une famille arrive à la borne pour acheter des places. Il reste 86 places dans la salle. Trois membres de la famille n'ont pas de lunettes 3D. Ils payent 80 € au total.
- La résolution de l'équation $11x + 36 = 80$ permet de déterminer le nombre x de personnes ayant leurs lunettes 3D. Résoudre cette équation.
 - En déduire le nombre de places restantes après leur achat.
 - Les messages affichés par la borne lors de cet achat sont présentés en **annexe 7/8** par des vignettes données dans le désordre. Numéroté de 1 à 5 les vignettes sur l'annexe dans l'ordre chronologique d'apparition sur la borne.

ANNEXES A RENDRE AVEC LA COPIE

Exercice 1 : Questions 1 et 2



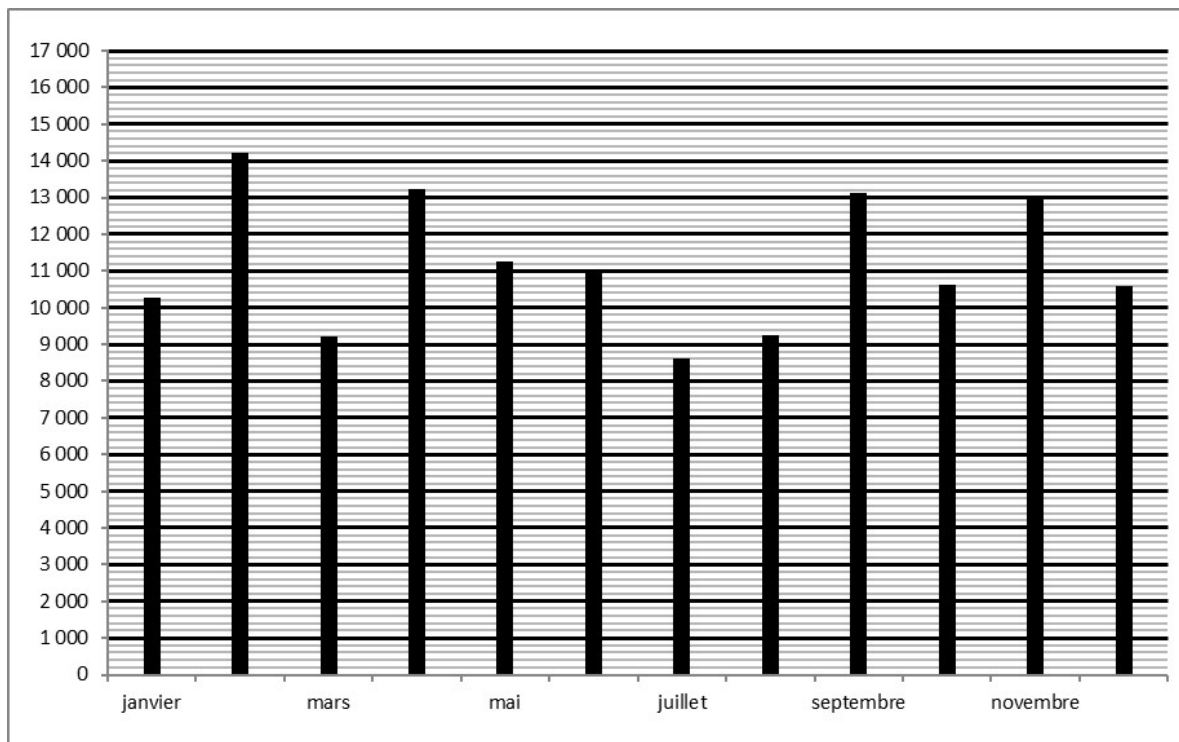
Exercice 6 : Question 3.c

<p style="text-align: center;">vignette</p> <div style="border: 1px solid gray; padding: 5px; margin: 10px auto; width: 80%;">il reste 79 places dans la salle</div> <div style="text-align: center; margin-top: 20px;"> </div>	<p style="text-align: center;">vignette</p> <div style="border: 1px solid gray; padding: 5px; margin: 10px auto; width: 80%;">il reste 86 places dans la salle</div> <div style="text-align: center; margin-top: 20px;"> </div>	<p style="text-align: center;">vignette</p> <div style="border: 1px solid gray; padding: 5px; margin: 10px auto; width: 80%;">le prix à payer est de 80 €</div> <div style="text-align: center; margin-top: 20px;"> </div>
<p style="text-align: center;">vignette</p> <div style="border: 1px solid blue; padding: 5px; margin: 10px auto; width: 80%;">nombre de personne sans achat de lunettes 3D ?</div> <div style="text-align: center; margin-top: 20px;"> </div> <div style="border: 1px solid blue; padding: 2px; margin-top: 10px; display: flex; align-items: center;"> <input style="width: 150px;" type="text" value="4"/> ✓ </div>	<p style="text-align: center;">vignette</p> <div style="border: 1px solid blue; padding: 5px; margin: 10px auto; width: 80%;">nombre de personne avec achat de lunettes 3D ?</div> <div style="text-align: center; margin-top: 20px;"> </div> <div style="border: 1px solid blue; padding: 2px; margin-top: 10px; display: flex; align-items: center;"> <input style="width: 150px;" type="text" value="3"/> ✓ </div>	

Exercice 4 : Questions 1 et 2

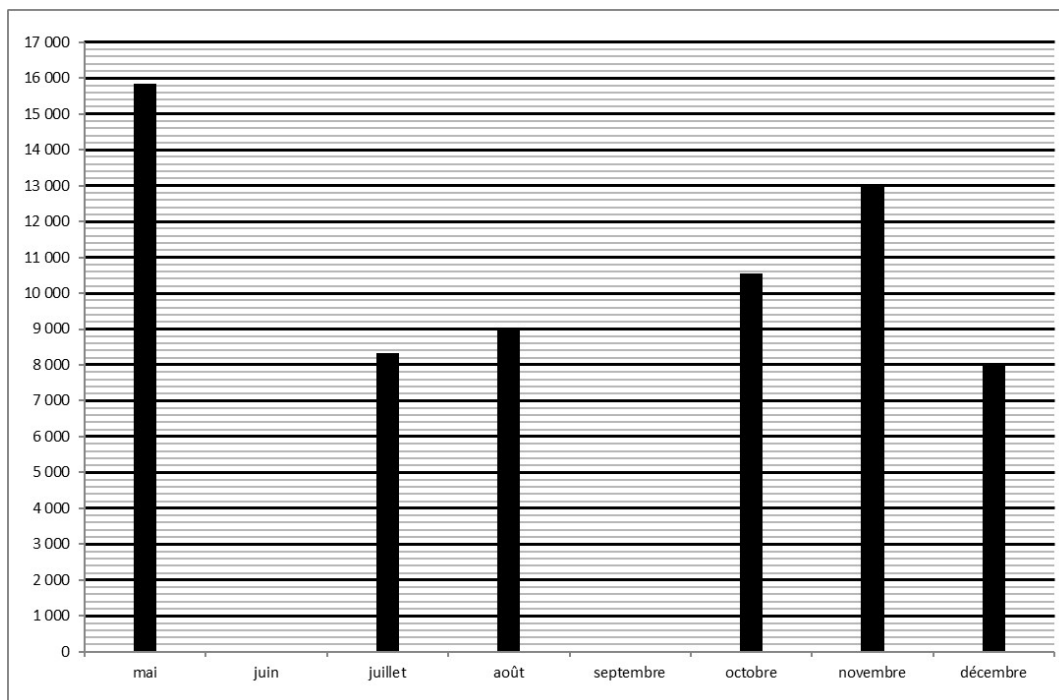
Cinéma du centre-ville

Mois	Jan.	Fev.	Mars	Avril	Mai	Juin	Juil.	Aout	Sept.	Oct.	Nov.	Dec.
Fréquentation (nombre d'entrées)	14 230	13 220	11 255	11 054	8 600	9 251	13 134	10 622	12 942	10 578



Cinéma de la zone commerciale

Mois	Mai	Juin	Juil.	Août	Sept.	Oct.	Nov.	Dec.
Nombre d'entrées	15 850	11 400	8 320	9 015	12 000	10 548	12 987	8 000



En cours de rédaction...

INFORMATIONS LÉGALES

- **Auteur** : Fabrice ARNAUD
- **Web** : pi.ac3j.fr
- **Mail** : contact@ac3j.fr
- **Dernière modification** : 4 janvier 2026 à 21:18

Ce document a été écrit pour L^AT_EX avec l'éditeur VIM - Vi Improved Vim 9.1.967

Il a été compilé sous Linux Ubuntu Questing Quokka (Le Quokka en quête) 25.10 avec la distribution TeX Live 2024.20250309 et LuaTeX 1.18.0

Le fichier source a été réalisé sous Linux Ubuntu avec l'éditeur Vim.

J'aimerais beaucoup rendre disponibles mes sources en T_EX. Dans un monde idéal, je le ferai immédiatement. J'ai plusieurs fois constaté que des pilleurs du Net me volent mes fichiers pdf, retirent cette dernière page de licence, pour les mettre en ligne et parfois même les rendre payants. N'ayant pas les moyens de mettre un cabinet d'avocats sur cette contravention à la licence CC BY-NC-SA 4.0, je fais le choix de ne pas rendre mes sources disponibles. La plupart des pdf proposés sur ce blog ne contiennent aucun filigrane, je ne les signe pas. Cela permet aux collègues, aux parents, aux élèves, de disposer d'un document anonyme dont chacun peut disposer en respectant la licence qui est particulièrement souple pour les utilisateurs non commerciaux. Je me suis contenté d'ajouter mes références sur cette dernière page. Seules les corrections d'examens contiennent un filigrane vertical. J'ai en effet constaté que certains sites peu scrupuleux, vendaient mes corrections alors qu'elles sont disponibles librement et gratuitement sur mon site. Cette solution est insatisfaisante, je n'ai pas trouvé mieux !

Les QR codes présents sur certains documents pointent vers le fichier pdf lui-même et sa correction. Ce lien ne pointe ni vers une page de mon blog ni vers une quelconque publicité. Vous pouvez le laisser si vous souhaitez que vos élèves accèdent au document en ligne avec sa correction.

Si vous êtes un enseignant et que vous diffusez ce document dans le cadre strict de votre établissement scolaire, inutile de vous poser des questions sur la licence ci-dessous ! Dans la mesure où vous limitez cette diffusion à votre classe ou un environnement numérique de travail privé, n'hésitez pas à vous servir !

LICENCE CC BY-NC-SA 4.0



Attribution
Pas d'Utilisation Commerciale
Partage dans les Mêmes Conditions 4.0 International

Ce document est placé sous licence CC-BY-NC-SA 4.0 qui impose certaines conditions de ré-utilisation.

Vous êtes autorisé à :

Partager — copier, distribuer et communiquer le matériel par tous moyens et sous tous formats

Adapter — remixer, transformer et créer à partir du matériel

L'Offrant ne peut retirer les autorisations concédées par la licence tant que vous appliquez les termes de cette licence.

Selon les conditions suivantes :

Attribution — Vous devez créditer l'Œuvre, intégrer un lien vers la licence et indiquer si des modifications ont été effectuées à l'Œuvre. Vous devez indiquer ces informations par tous les moyens raisonnables, sans toutefois suggérer que l'Offrant vous soutient ou soutient la façon dont vous avez utilisé son œuvre.

Pas d'Utilisation Commerciale — Vous n'êtes pas autorisé à faire un usage commercial de cette Œuvre, tout ou partie du matériel la composant.

Partage dans les Mêmes Conditions — Dans le cas où vous effectuez un remix, que vous transformez, ou créez à partir du matériel composant l'Œuvre originale, vous devez diffuser l'œuvre modifiée dans les même conditions, c'est à dire avec la même licence avec laquelle l'œuvre originale a été diffusée.

Pas de restrictions complémentaires — Vous n'êtes pas autorisé à appliquer des conditions légales ou des mesures techniques qui restreindraient légalement autrui à utiliser l'Œuvre dans les conditions décrites par la licence.

Consulter : <https://creativecommons.org/licenses/by-nc-sa/4.0/deed.fr>

Comment créditer cette œuvre ?

Ce document, **Brevet.pdf**, a été créé par **Fabrice ARNAUD** (contact@ac3j.fr) le 4 janvier 2026 à 21:18.

Il est disponible en ligne sur pi.ac3j.fr, **Le blog de Fabrice ARNAUD**.

Adresse de l'article : <https://pi.ac3j.fr/brevet>