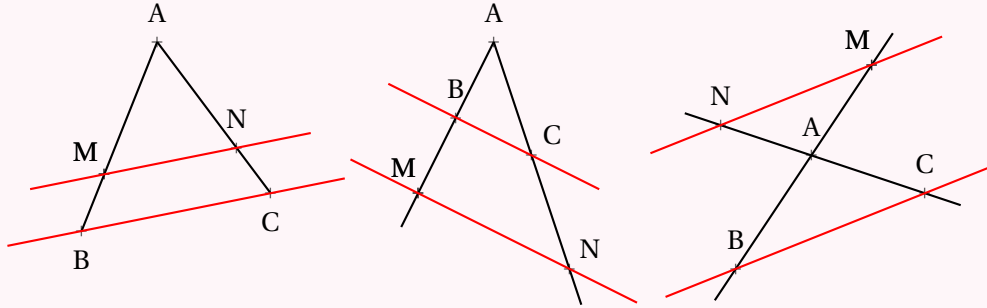


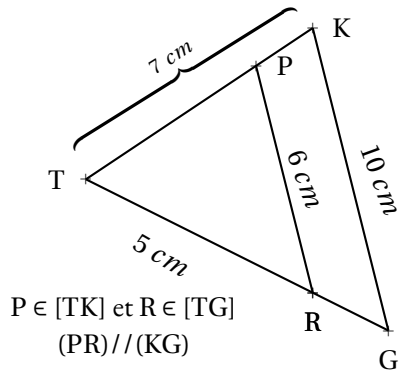
# LE THÉORÈME DE THALÈS

## LE THÉORÈME DE THALÈS



Si deux droites (BM) et (CN) sont sécantes en A et si (MN) // (BC)  
alors les mesures des triangles ABC et AMN sont proportionnelles c'est-à-dire

$$\frac{AM}{AB} = \frac{AN}{AC} = \frac{MN}{BC}$$



Calculer TG et TP.

Les droites (PK) et (RG) sont sécantes en T.  
Les droites (PR) et (KG) sont parallèles.  
D'après le **théorème de Thalès** on a :

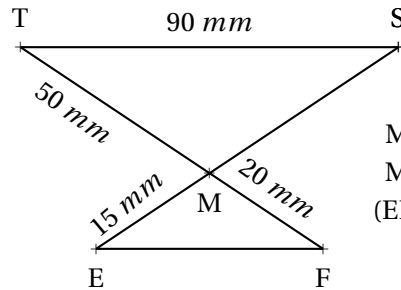
$$\frac{TP}{TK} = \frac{TR}{TG} = \frac{PR}{KG}$$

$$\frac{TP}{7 \text{ cm}} = \frac{5 \text{ cm}}{TG} = \frac{6 \text{ cm}}{10 \text{ cm}}$$

On utilise la règle de trois :

$$TP = \frac{7 \text{ cm} \times 6 \text{ cm}}{10 \text{ cm}} = 4,2 \text{ cm}$$

$$TG = \frac{5 \text{ cm} \times 10 \text{ cm}}{6 \text{ cm}} \approx 8,3 \text{ cm}$$



$M \in (ES)$   
 $M \in (TF)$   
(EF) // (TS)

Calculer MS et EF.

Les droites (ES) et (TF) sont sécantes en M.  
Les droites (EF) et (TS) sont parallèles.  
D'après le **théorème de Thalès** on a :

$$\frac{ME}{MS} = \frac{MF}{MT} = \frac{EF}{ST}$$

$$\frac{15 \text{ mm}}{MS} = \frac{20 \text{ mm}}{50 \text{ mm}} = \frac{EF}{90 \text{ mm}}$$

On utilise la règle de trois :

$$MS = \frac{50 \text{ mm} \times 15 \text{ mm}}{20 \text{ mm}} = 37,5 \text{ mm}$$

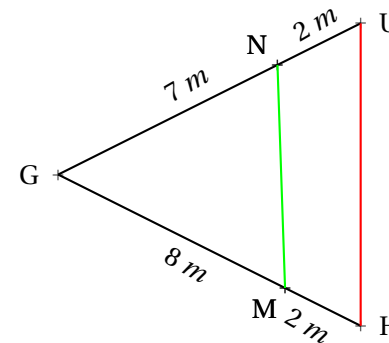
$$EF = \frac{90 \text{ mm} \times 20 \text{ mm}}{50 \text{ mm}} = 36 \text{ mm}$$

## THÉORÈME DE THALÈS CONTRAPOSÉ

Si deux droites (BM) et (CN) sont sécantes en A et si  $\frac{AM}{AB} \neq \frac{AN}{AC}$   
Alors les droites (MN) et (BC) ne sont pas parallèles.

## RÉCIPROQUE DU THÉORÈME DE THALÈS

Si deux droites (BM) et (CN) sont sécantes en A avec A, B et M dans le même ordre que A, C et N et si  $\frac{AM}{AB} = \frac{AN}{AC}$   
Alors les droites (MN) et (BC) sont parallèles.



(NM) et (HU) sont-elles parallèles?

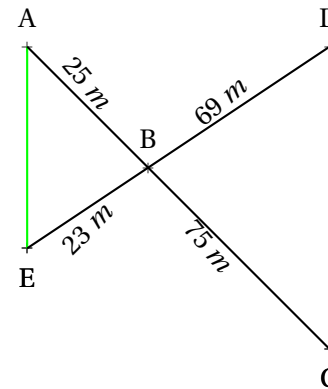
Comparons  $\frac{GN}{GU}$  et  $\frac{GM}{GH}$

$$\frac{GN}{GU} = \frac{7 \text{ m}}{9 \text{ m}} \approx 0,78 \text{ et } \frac{GM}{GH} = \frac{2 \text{ m}}{8 \text{ m}} = 0,25$$

Comme  $\frac{GN}{GU} \neq \frac{GM}{GH}$  d'après le **théorème de Thalès (contraposé)**, les droites (NM) et (HU) sont sécantes.

On pouvait aussi comparer les produits en croix :  
 $7 \times 10 = 70$  et  $2 \times 8 = 16$  pour conclure au fait que les quotients ne sont pas égaux.

(AE) et (DC) sont-elles parallèles?



Comparons  $\frac{BA}{BC}$  et  $\frac{BE}{BD}$

$$\frac{BA}{BC} = \frac{25 \text{ m}}{75 \text{ m}} = \frac{1}{3} \approx 0,33 \text{ et } \frac{BE}{BD} = \frac{23 \text{ m}}{69 \text{ m}} = \frac{1}{3} \approx 0,33$$

Comme  $\frac{BA}{BC} = \frac{BE}{BD}$  et comme les points B, A et C sont alignés et dans le même ordre que les points alignés B, E et D.  
D'après le **réciroque du théorème de Thalès** les droites (AE) et (DC) sont parallèles.

Pour comparer les fractions on peut utiliser la valeur exacte ou la valeur approchée. Le plus pratique est souvent de comparer les produits en croix :

$$75 \times 23 = 1725 \text{ et } 25 \times 69 = 1725$$

# INFORMATIONS LÉGALES

- **Auteur** : Fabrice ARNAUD
- **Web** : pi.ac3j.fr
- **Mail** : contact@ac3j.fr
- **Dernière modification** : 24 juin 2024 à 21:34

Ce document a été écrit pour  $\LaTeX$  avec l'éditeur VIM - Vi Improved Vim 9.1.  
Il a été compilé sous Linux Ubuntu Noble Numbat 24.04 avec la distribution TeX Live 2023.20240207-101 et LuaHBTeX 1.17.0

Pour compiler ce document, un fichier comprenant la plupart des macros est nécessaires. Ce fichier, Entete.tex, est encore trop mal rédigé pour qu'il puisse être mis en ligne. Il est en cours de réécriture et permettra ensuite le partage des sources dans de bonnes conditions.  
Le fichier source a été réalisé sous Linux Ubuntu avec l'éditeur Vim. Il utilise une balise spécifique à Vim pour permettre une organisation du fichier sous forme de replis. Cette balise `%{{{ ... %}}}` est un commentaire pour LaTeX, elle n'est pas nécessaire à sa compilation. Vous pouvez l'utiliser avec Vim en lui précisant que ce code définit un repli. Je vous laisse consulter la documentation officielle de Vim à ce sujet.

## LICENCE CC BY-NC-SA 4.0



**Attribution**  
**Pas d'Utilisation Commerciale**  
**Partage dans les Mêmes Conditions 4.0 International**

Ce document est placé sous licence CC-BY-NC-SA 4.0 qui impose certaines conditions de ré-utilisation.

### Vous êtes autorisé à :

- Partager** — copier, distribuer et communiquer le matériel par tous moyens et sous tous formats
- Adapter** — remixer, transformer et créer à partir du matériel

L'Offrant ne peut retirer les autorisations concédées par la licence tant que vous appliquez les termes de cette licence.

### Selon les conditions suivantes :

- Attribution** — Vous devez créditer l'Œuvre, intégrer un lien vers la licence et indiquer si des modifications ont été effectuées à l'Œuvre. Vous devez indiquer ces informations par tous les moyens raisonnables, sans toutefois suggérer que l'Offrant vous soutient ou soutient la façon dont vous avez utilisé son œuvre.
- Pas d'Utilisation Commerciale** — Vous n'êtes pas autorisé à faire un usage commercial de cette Œuvre, tout ou partie du matériel la composant.
- Partage dans les Mêmes Conditions** — Dans le cas où vous effectuez un remix, que vous transformez, ou créez à partir du matériel composant l'Œuvre originale, vous devez diffuser l'œuvre modifiée dans les mêmes conditions, c'est à dire avec la même licence avec laquelle l'œuvre originale a été diffusée.
- Pas de restrictions complémentaires** — Vous n'êtes pas autorisé à appliquer des conditions légales ou des mesures techniques qui restreindraient légalement autrui à utiliser l'Œuvre dans les conditions décrites par la licence.

Consulter : <https://creativecommons.org/licenses/by-sa/4.0/deed.fr>

### Comment créditer cette Œuvre ?

Ce document, **Compilation.pdf**, a été créé par **Fabrice ARNAUD (contact@ac3j.fr)** le 24 juin 2024 à 21:34.  
Il est disponible en ligne sur [pi.ac3j.fr](https://pi.ac3j.fr), **Le blog de Fabrice ARNAUD**.  
Adresse de l'article : <https://pi.ac3j.fr/fiches-de-mathematiques/>.