



PROPRIÉTÉ :

a, b et k des nombres

$$k \times (a + b) = k \times a + k \times b$$

$$1 \times x = x$$

$$-1 \times x = -x$$

$$x \times x = x^2$$

$$x \times x^2 = x^3$$

EXEMPLES :

$$A = 7(3x + 1)$$

$$A = 7 \times 3x + 7 \times 1$$

*Il est fortement déconseillé d'écrire cette ligne.
Ces calculs doivent être faits mentalement.*

$$A = 21x + 7$$

$$B = -4x(1 - 7x)$$

$$B = -4x + 28x^2$$

Développer, réduire et ordonner les expressions suivantes :

$$A = 5(4x + 7)$$

$$G = 5x(7x - 5)$$

$$M = -5y(2 - 3y)$$

$$B = 6(5x + 9)$$

$$H = -6x(4x - 3)$$

$$N = -7z(3z - 2)$$

$$C = 7(4x - 6)$$

$$I = -8x(-5 - 7x)$$

$$O = a(a - 2)$$

$$D = 9(5x - 8)$$

$$J = -3(-3x - 3)$$

$$P = 3(5x^2 - 7x + 1)$$

$$E = 7(-4x - 8)$$

$$K = -7x(-7x + 9)$$

$$Q = -5x(6x^2 + 7x - 9)$$

$$F = 8(-5x - 3)$$

$$L = -4x(5 - 6x)$$

$$R = -3z^2(z - 3z^2 + 8)$$



Calcul littéral III — Correction




Quatrième

Les calculs écrits avec ce style et précédés par le symbole  sont des commentaires. Il n'est pas utile des les écrire sur votre copie. Il s'agit de la procédure mentale qui permet d'obtenir le résultat.

Développer, réduire et ordonner les expressions suivantes :

$$A = 5(4x + 7)$$


 $A = 5 \times 4x + 5 \times 7$

Le calcul ci-dessus doit être effectué mentalement. Il est vivement déconseillé de l'écrire sur votre copie.

$$A = 20x + 35$$




$$B = 6(5x + 9)$$

 $B = 6 \times 5x + 6 \times 9$

$$B = 30x + 54$$




$$C = 7(4x - 6)$$

 $C = 7 \times 4x - 7 \times 6$

$$C = 28x - 42$$




$$D = 9(5x - 8)$$

 $D = 9 \times 5x - 9 \times 8$

$$D = 45x - 72$$




$$E = 7(-4x - 8)$$

 $E = 7 \times (-4x) - 7 \times 8$

$$E = -28x - 56$$




$$F = 8(-5x - 3)$$

 $F = 8 \times (-5x) - 8 \times 3$

$$F = -40x - 24$$




$$G = 5x(7x - 5)$$

 $G = 5x \times 7x - 5x \times 5$

$$G = 35x^2 - 25x$$



$$H = -6x(4x - 3)$$


 $H = -6x \times 4x - 6x \times (-3)$

En pratique, pour effectuer $-6x \times 4x$, on commence par déterminer le signe du produit, ici c'est négatif. Puis on effectue $6 \times 4 = 24$ et enfin on détermine la puissance de x en effectuant $x \times x = x^2$.

$$H = -24x^2 + 18x$$




$$I = -8x(-5 - 7x)$$

 $I = -8x \times (-5) - 8x \times (-7x)$

$$I = 40x + 56x^2$$




$$J = -3(-3x - 3)$$

 $J = -3 \times (-3x) - 3 \times (-3)$

$$J = 9x + 9$$




$$K = -7x(-7x + 9)$$

 $K = -7x \times (-7x) - 7x \times 9$

$$K = 49x^2 - 63x$$




$$L = -4x(5 - 6x)$$

 $L = -4x \times 5 - 4x \times (-6x)$

$$L = -20x + 24x^2$$




$$M = -5y(2 - 3y)$$

 $M = -5y \times 2 - 5y \times (-3y)$

$$M = -10y + 15y^2$$



$$N = -7z(3z - 2)$$

 $N = -7z \times 3z - 7z \times (-2)$

$$N = -21z^2 + 14z$$




$$O = a(a - 2)$$

 $O = a \times a + a \times (-2)$

$$O = a^2 - 2a$$




$$P = 3(5x^2 - 7x + 1)$$

 $P = 3 \times 5x^2 + 3 \times (-7x) + 3 \times 1$

$$P = 15x^2 - 21x + 3$$




$$Q = -5x(6x^2 + 7x - 9)$$

 $Q = -5x \times 6x^2 - 5x \times 7x - 5x \times (-9)$

$$Q = 30x^3 - 35x^2 + 45x$$



$$R = -3z^2(z - 3z^2 + 8)$$

 $R = -3z^2 \times z - 3z^2 \times (-3z^2) - 3z^2 \times 8$

$$R = -3z^3 + 9z^4 - 24z^2$$





Calcul littéral IV



Quatrième

DÉVELOPPEMENT ET RÉDUCTION DES EXPRESSIONS LITTÉRALES

Développer et réduire une expression littérale complexe en utilisant la distributivité simple



ÉVALUATION

PROPRIÉTÉ :

a, b et k des nombres

$$k \times (a + b) = k \times a + k \times b$$

$$1 \times x = x$$

$$-1 \times x = -x$$

$$x \times x = x^2$$

EXEMPLES :

$$A = 5(3x + 2) + 4x(3x + 3)$$

$$A = 5 \times 3x + 5 \times 2 + 4x \times 3x + 4x \times 3$$

Il est fortement déconseillé d'écrire cette ligne.

Ces calculs sont à faire mentalement.

$$A = 15x + 10 + 12x^2 + 12x$$

$$A = 12x^2 + 27x + 10$$

$$B = 6x(5x - 1) - 4(1 - 7x)$$

$$B = 30x^2 - 6x - 4 + 28x$$

$$B = 30x^2 + 22x - 4$$

Développer, réduire et ordonner les expressions suivantes :

$$A = 3(4x + 1) + 2(5x + 3)$$

$$B = 3(6x + 5) + 2(4x + 3)$$

$$C = 5(3x - 6) + 6(5x - 1)$$

$$D = 7(1 - 2x) + 3(1 - 7x)$$

$$E = 3(-1 - 3x) + 6(-3 - 5x)$$

$$F = 8(-2x - 5) - 5(5x - 1)$$

$$G = 4x(3x - 5) + 4x(1 - x)$$

$$H = -6x(4x - 3) - 7(5x - 1)$$

$$I = -8x(-5 - 7x) - 7(1 - 7x) + x(1 - x)$$

$$J = -3(-3x - 3) - 5(1 - x) - (6x - 1)$$

$$K = -7x(-7x + 9) + 4(3x - 1) - (4x - 1) + 3x$$

$$L = -4x(5 - 6x) + 2(3x + 1) - x(1 - x) + 7(x - 1)$$

INFORMATIONS LÉGALES

- **Auteur** : Fabrice ARNAUD
- **Web** : pi.ac3j.fr
- **Mail** : contact@ac3j.fr
- **Dernière modification** : 18 mars 2025 à 7:05

Ce document a été écrit pour L^AT_EX avec l'éditeur VIM - Vi Improved Vim 9.1.
Il a été compilé sous Linux Ubuntu Noble Numbat 24.04 avec la distribution TeX Live 2023.20240207-101 et LuaHBTeX 1.17.0

Pour compiler ce document, un fichier comprenant la plupart des macros est nécessaires. Ce fichier, Entete.tex, est encore trop mal rédigé pour qu'il puisse être mis en ligne. Il est en cours de réécriture et permettra ensuite le partage des sources dans de bonnes conditions.

Le fichier source a été réalisé sous Linux Ubuntu avec l'éditeur Vim. Il utilise une balise spécifique à Vim pour permettre une organisation du fichier sous forme de replis. Cette balise %{{{ ... %}}} est un commentaire pour LaTeX, elle n'est pas nécessaire à sa compilation. Vous pouvez l'utiliser avec Vim en lui précisant que ce code définit un repli. Je vous laisse consulter la documentation officielle de Vim à ce sujet.

LICENCE CC BY-NC-SA 4.0



Attribution Pas d'Utilisation Commerciale Partage dans les Mêmes Conditions 4.0 International

Ce document est placé sous licence CC-BY-NC-SA 4.0 qui impose certaines conditions de ré-utilisation.

Vous êtes autorisé à :

- Partager** — copier, distribuer et communiquer le matériel par tous moyens et sous tous formats
- Adapter** — remixer, transformer et créer à partir du matériel

L'Offrant ne peut retirer les autorisations concédées par la licence tant que vous appliquez les termes de cette licence.

Selon les conditions suivantes :

- Attribution** — Vous devez créditer l'Œuvre, intégrer un lien vers la licence et indiquer si des modifications ont été effectuées à l'Œuvre. Vous devez indiquer ces informations par tous les moyens raisonnables, sans toutefois suggérer que l'Offrant vous soutient ou soutient la façon dont vous avez utilisé son œuvre.
- Pas d'Utilisation Commerciale** — Vous n'êtes pas autorisé à faire un usage commercial de cette Œuvre, tout ou partie du matériel la composant.
- Partage dans les Mêmes Conditions** — Dans le cas où vous effectuez un remix, que vous transformez, ou créez à partir du matériel composant l'Œuvre originale, vous devez diffuser l'œuvre modifiée dans les mêmes conditions, c'est à dire avec la même licence avec laquelle l'œuvre originale a été diffusée.
- Pas de restrictions complémentaires** — Vous n'êtes pas autorisé à appliquer des conditions légales ou des mesures techniques qui restreindraient légalement autrui à utiliser l'Œuvre dans les conditions décrites par la licence.

Consulter : <https://creativecommons.org/licenses/by-sa/4.0/deed.fr>

Comment créditer cette Œuvre ?

Ce document, **Fiche_exercices_gradues**, a été créé par **Fabrice ARNAUD (contact@ac3j.fr)** le 18 mars 2025 à 7:05.

Il est disponible en ligne sur **pi.ac3j.fr**, **Le blog de Fabrice ARNAUD**.

Adresse de l'article : .