



Calcul littéral VII

Quatrième — Troisième



DÉVELOPPEMENT ET RÉDUCTION DES EXPRESSIONS LITTÉRALES

Développer et réduire une expression littérale en utilisant la double distributivité

PROPRIÉTÉ :

a, b et k des nombres

$$k \times (a + b) = k \times a + k \times b$$

On obtient comme conséquence, ce qu'on appelle abusivement, la double distributivité :

$$(a + b)(c + d) = ac + ad + bc + bd$$

Il est absolument inutile de retenir par coeur cette expression !
Seule la méthode doit être retenue.

EXEMPLES :

$$A = (5x + 3)(4x + 2)$$

$$A = 5x \times 4x + 5x \times 2 + 3 \times 4x + 3 \times 2$$

Cette ligne ne doit pas être écrite.

Il faut faire les calculs mentalement.

$$A = 20x^2 + 10x + 12x + 6$$

$$A = 20x^2 + 22x + 6$$

$$B = (6 - 2x)(-3 - 7x)$$

$$B = -18 - 42x + 6x + 14x^2$$

$$B = 14x^2 - 36x - 18$$

Développer, réduire et ordonner les expressions suivantes :

$$A = (4x + 3)(6x + 2)$$

$$F = (8x - 5)(7x - 3)$$

$$K = (5x - 6)(-6x - 8)$$

$$B = (6x + 7)(3x + 4)$$

$$G = (6x - 3)(8x - 7)$$

$$L = (-7x - 8)(8 - 7x)$$

$$C = (9x + 6)(7x + 8)$$

$$H = (1 - 7x)(1 + 7x)$$

$$M = (3x - 7)(-3x - 7)$$

$$D = (5x - 3)(4x + 7)$$

$$I = (3 - 6x)(4 - 8x)$$

$$N = (5x - 6)(-5x - 6)$$

$$E = (6x - 7)(4x + 9)$$

$$J = (-3 - 6x)(-5x - 7)$$

$$O = (-6 - 4x)(1 - 9x)$$



Calcul littéral VII — Correction




Quatrième — Troisième

Les calculs écrits avec ce style et précédés par le symbole  sont des commentaires. Il n'est pas utile de les écrire sur votre copie. Il s'agit de la procédure mentale qui permet d'obtenir le résultat.

Développer, réduire et ordonner les expressions suivantes :

$$A = (4x + 3)(6x + 2)$$


 $A = 4x \times 6x + 4x \times 2 + 3 \times 6x + 3 \times 2$

$$A = 24x^2 + 8x + 18x + 6$$

$$A = 24x^2 + 26x + 6$$



$$B = (6x + 7)(3x + 4)$$


 $B = 6x \times 3x + 6x \times 4 + 7 \times 3x + 7 \times 4$

$$B = 18x^2 + 24x + 21x + 28$$

$$B = 18x^2 + 45x + 28$$



$$C = (9x + 6)(7x + 8)$$


 $C = 9x \times 7x + 9x \times 8 + 6 \times 7x + 6 \times 8$

$$C = 63x^2 + 72x + 42x + 48$$

$$C = 63x^2 + 114x + 48$$



$$D = (5x - 3)(4x + 7)$$


 $D = 5x \times 4x + 5x \times 7 - 3 \times 4x - 3 \times 7$

$$D = 20x^2 + 35x - 12x - 21$$

$$D = 20x^2 + 23x - 21$$



$$E = (6x - 7)(4x + 9)$$


 $E = 6x \times 4x + 6x \times 9 - 7 \times 4x - 7 \times 9$

$$E = 24x^2 + 54x - 28x - 63$$

$$E = 24x^2 + 26x - 63$$



$$F = (8x - 5)(7x - 3)$$


 $F = 8x \times 7x + 8x \times (-3) - 5 \times 7x - 5 \times (-3)$

$$F = 56x^2 - 24x - 35x + 15$$

$$F = 56x^2 - 59x + 15$$



$$G = (6x - 3)(8x - 7)$$


 $G = 6x \times 8x + 6x \times (-7) - 3 \times 8x - 3 \times (-7)$

$$G = 48x^2 - 42x - 24x + 21$$

$$G = 48x^2 - 66x + 21$$



$$H = (1 - 7x)(1 + 7x)$$


 $H = 1 \times 1 + 1 \times 7x - 7x \times 1 - 7x \times 7x$

$$H = 1 + 7x - 7x - 49x^2$$

$$H = -49x^2 + 1$$



$$I = (3 - 6x)(4 - 8x)$$


 $I = 3 \times 4 + 3 \times (-8x) - 6x \times 4 - 6x \times (-8x)$

$$I = 12 - 24x - 24x + 48x^2$$

$$I = 48x^2 - 48x + 12$$



$$J = (-3 - 6x)(-5x - 7)$$


 $J = -3 \times (-5x) - 3 \times (-7) - 6x \times (-5x) - 6x \times (-7)$

$$J = 15x + 21 + 30x^2 + 42x$$

$$J = 30x^2 + 57x + 21$$



$$K = (5x - 6)(-6x - 8)$$


 $K = 5x \times (-6x) + 5x \times (-8) - 6 \times (-6x) - 6 \times (-8)$

$$K = -30x^2 - 40x + 36x + 48$$

$$K = -30x^2 - 4x + 48$$



$$L = (-7x - 8)(8 - 7x)$$


 $L = -7x \times 8 - 7x \times (-7x) - 8 \times 8 - 8 \times (-7x)$

$$L = -56x - x + 49x^2 - 64 + 56x$$

$$L = 49x^2 - 64$$



$$M = (3x - 7)(-3x - 7)$$


 $M = 3x \times (-3x) + 3x \times (-7) - 7 \times (-3x) - 7 \times (-7)$

$$M = -9x^2 - 21x + 21x + 49$$

$$M = -9x^2 + 49$$



$$N = (5x - 6)(-5x - 6)$$


 $N = 5x \times (-5x) + 5x \times (-6) - 6 \times (-5x) - 6 \times (-6)$

$$N = -25x^2 - 30x + 30x + 36$$

$$N = -25x^2 + 36$$



$$O = (-6 - 4x)(1 - 9x)$$


 $O = -6 \times 1 - 6 \times (-9x) - 4x \times 1 - 4x \times (-9x)$

$$O = -6 + 54x - 4x + 36x^2$$

$$O = 36x^2 + 50x - 6$$



$$P = (-4x + 3)(-5 - 9x)$$

 $P = -4x \times -5 - 4x \times (-9x) + 3 \times (-5) + 3 \times (-9x)$

$$P = -20x + 36x^2 - 15 - 27x$$

$$P = 36x^2 - 47x - 15$$





Calcul littéral VIII

Troisième



DÉVELOPPEMENT ET RÉDUCTION DES EXPRESSIONS LITTÉRALES

Développer et réduire une expression littérale complexe comprenant deux blocs séparés par un signe plus ou moins

PROPRIÉTÉ :

a, b et k des nombres

$$k \times (a + b) = k \times a + k \times b$$

On obtient comme conséquence, ce qu'on appelle abusivement, la double distributivité :

$$(a + b)(c + d) = ac + ad + bc + bd$$

Un signe moins devant une expression entre parenthèse, indique qu'il faut calculer l'opposé de cette expression. Pour cela on calcule l'opposé de chaque terme.

EXEMPLES :

$$Z = (5x + 3)(4x + 2) + (6x - 1)(4x - 3)$$

$$Z = (20x^2 + 10x + 12x + 6) + (24x^2 - 18x - 4x + 3)$$

Même si les grandes parenthèses sont inutiles ici, il est souvent utile de les faire apparaître pour guider les calculs.

$$Z = 20x^2 + 22x + 6 + 24x^2 - 22x + 3$$

$$Z = 44x^2 + 9$$

$$Y = (6 - 2x)(-3 - 7x) - (5x - 3)(6x + 4)$$

$$Y = (-18 - 42x + 6x + 14x^2) - (30x^2 + 20x - 18x - 12)$$

Ici, les grandes parenthèses sont indispensables. Le signe moins devant le second bloc indique qu'il faut calculer l'opposé de l'expression en prenant l'opposé de chaque terme.

$$Y = -18 - 42x + 6x + 14x^2 - 30x^2 - 20x + 18x + 12$$

$$Y = -16x^2 - 38x - 6$$

Développer, réduire et ordonner les expressions suivantes :

$$A = (4x + 3)(5x + 2) + (4x + 7)(5x + 9)$$

$$F = (6x + 9)(5x + 1) - (5x + 3)(6x + 1)$$

$$B = (6x - 4)(5x - 2) + (3x - 9)(9x - 8)$$

$$G = (3x - 7)(6x - 7) - (3x - 1)(5x - 1)$$

$$C = (-6x - 3)(1 - 7x) + (6 - 5x)(4x - 9)$$

$$H = (-6 - 5x)(7 - x) - (1 - 3x)(-3 - 5x)$$

$$D = (1 - 5x)(5x + 3) + (-1 - 6x)(-5 - 7x)$$

$$I = (5x - 9)(5x + 9) - (6x + 3)(6x + 3)$$

$$E = (3x - 8)(3x + 8) + (5x - 1)(5x + 1)$$

$$J = (1 - x)(1 + x) - (x - 3)(x - 3)$$

INFORMATIONS LÉGALES

- **Auteur** : Fabrice ARNAUD
- **Web** : pi.ac3j.fr
- **Mail** : contact@ac3j.fr
- **Dernière modification** : 30 avril 2026 à 14:10

Ce document a été écrit pour L^AT_EX avec l'éditeur VIM - Vi Improved Vim 9.1.967
Il a été compilé sous Linux Ubuntu Questing Quokka (Le Quokka en quête) 25.10 avec la distribution TeX Live 2024.20250309 et LuaTeX 1.18.0

Le fichier source a été réalisé sous Linux Ubuntu avec l'éditeur Vim.

J'aimerais beaucoup rendre disponibles mes sources en T_EX. Dans un monde idéal, je le ferai immédiatement. J'ai plusieurs fois constaté que des pilleurs du Net me volent mes fichiers pdf, retirent cette dernière page de licence, pour les mettre en ligne et parfois même les rendre payants. N'ayant pas les moyens de mettre un cabinet d'avocats sur cette contravention à la licence CC BY-NC-SA 4.0, je fais le choix de ne pas rendre mes sources disponibles. La plupart des pdf proposés sur ce blog ne contiennent aucun filigrane, je ne les signe pas. Cela permet aux collègues, aux parents, aux élèves, de disposer d'un document anonyme dont chacun peut disposer en respectant la licence qui est particulièrement souple pour les utilisateurs non commerciaux. Je me suis contenté d'ajouter mes références sur cette dernière page. Seules les corrections d'examens contiennent un filigrane vertical. J'ai en effet constaté que certains sites peu scrupuleux, vendaient mes corrections alors qu'elles sont disponibles librement et gratuitement sur mon site. Cette solution est insatisfaisante, je n'ai pas trouvé mieux!

Les QR codes présents sur certains documents pointent vers le fichier pdf lui-même et sa correction. Ce lien ne pointe ni vers une page de mon blog ni vers une quelconque publicité. Vous pouvez le laisser si vous souhaitez que vos élèves accèdent au document en ligne avec sa correction.

Si vous êtes un enseignant et que vous diffusez ce document dans le cadre strict de votre établissement scolaire, inutile de vous poser des questions sur la licence ci-dessous! Dans la mesure où vous limitez cette diffusion à votre classe ou un environnement numérique de travail privé, n'hésitez pas à vous servir!

LICENCE CC BY-NC-SA 4.0



Attribution Pas d'Utilisation Commerciale Partage dans les Mêmes Conditions 4.0 International

Ce document est placé sous licence CC-BY-NC-SA 4.0 qui impose certaines conditions de ré-utilisation.

Vous êtes autorisé à :

- Partager** — copier, distribuer et communiquer le matériel par tous moyens et sous tous formats
- Adapter** — remixer, transformer et créer à partir du matériel

L'Offrant ne peut retirer les autorisations concédées par la licence tant que vous appliquez les termes de cette licence.

Selon les conditions suivantes :

- Attribution** — Vous devez créditer l'Œuvre, intégrer un lien vers la licence et indiquer si des modifications ont été effectuées à l'Œuvre. Vous devez indiquer ces informations par tous les moyens raisonnables, sans toutefois suggérer que l'Offrant vous soutient ou soutient la façon dont vous avez utilisé son œuvre.
- Pas d'Utilisation Commerciale** — Vous n'êtes pas autorisé à faire un usage commercial de cette Œuvre, tout ou partie du matériel la composant.
- Partage dans les Mêmes Conditions** — Dans le cas où vous effectuez un remix, que vous transformez, ou créez à partir du matériel composant l'Œuvre originale, vous devez diffuser l'œuvre modifiée dans les mêmes conditions, c'est à dire avec la même licence avec laquelle l'œuvre originale a été diffusée.
- Pas de restrictions complémentaires** — Vous n'êtes pas autorisé à appliquer des conditions légales ou des mesures techniques qui restreindraient légalement autrui à utiliser l'Œuvre dans les conditions décrites par la licence.

Consulter : <https://creativecommons.org/licenses/by-nc-sa/4.0/deed.fr>

Comment créditer cette œuvre ?

Ce document, **Fiche_exercices_gradues**, a été créé par **Fabrice ARNAUD (contact@ac3j.fr)** le 30 avril 2026 à 14:10.
Il est disponible en ligne sur **pi.ac3j.fr**, **Le blog de Fabrice ARNAUD**.
Adresse de l'article :